

Leia atentamente o texto a seguir para responder às questões de 01 a 03.

TEXTO:

A criança é uma cientista nata. Sua curiosidade constante em conhecer tudo e descobrir como tudo funciona é uma ótima ferramenta para que receba respostas e adequadas instruções.

O educador, em qualquer espaço, deve observá-la, ouvi-la e responder a todas as dúvidas de forma compatível com a idade neurológica da criança. Muitas vezes, dependendo do assunto, deve-se também instigá-la a buscar respostas, desenvolvendo desde cedo o gosto e o desafio da busca, da pesquisa. Isso desenvolve uma personalidade única e particular que, com certeza, a tornará protagonista da sua história. Ela jamais será uma maria vai com as outras. Ela sempre terá o benefício da dúvida, que a impelirá a buscar as respostas.

Os valores e princípios devem ser inseridos desde cedo, independente de qualquer formação religiosa. O que conta é o certo e o errado e suas consequências. Não se trata de a sua vontade prevalecer, e sim do certo.

O contato com a natureza é outra ferramenta de excelente alcance, para levar a criança a pensar: “como nasce uma planta?”, “como se formam as nuvens?”.

É muito importante, desde pequena, a criança saber das responsabilidades quanto ao meio ambiente, ao convívio, às suas atitudes.

Geralmente quando uma criança pergunta: “por que não?”, o adulto responde: “porque é não e pronto”. Para a criança não fica claro o que realmente deveria ficar, ou seja, para ela você está dizendo “não” só porque está indo de encontro à sua vontade. E não se trata disso, trata-se do certo e do errado, do bom e do ruim. Isso tem de ficar claro para a criança: “disse que não, porque é errado fazer isso, é perigoso, pode machucar você”, etc.

MARLY. A criança e a educação. Disponível em: <<http://www.artigonal.com/educacao-infantil-artigos/a-crianca-e-a-educacao957541.html>>. Acesso em: 23 jan. 2011. Adaptado.

Questão 01 (Peso 1)

O texto tem como objetivo principal

- A) provar que toda criança é uma cientista nata.
- B) mostrar que nenhuma criança é “maria vai com as outras”.
- C) orientar o educador no sentido de saber agir junto à criança.
- D) levar o leitor a maravilhar-se com a riqueza do universo infantil.
- E) questionar o direito de a criança tomar conhecimento da realidade circundante.

Questão 02 (Peso 2)

Considerando-se o contexto em que está inserido, traduz uma opinião da autora do texto o fragmento transcrito em

- A) “A criança é uma cientista nata.” (linha 1).
- B) “O educador, em qualquer espaço, deve observá-la, ouvi-la e responder a todas as dúvidas de forma compatível com a idade neurológica da criança.” (linhas 3 e 4).
- C) “Ela sempre terá o benefício da dúvida, que a impelirá a buscar as respostas.” (linhas 7 e 8).
- D) “Não se trata de a sua vontade prevalecer, e sim do certo.” (linhas 10 e 11).
- E) “Geralmente quando uma criança pergunta: ‘por que não?’, o adulto responde: ‘porque é não e pronto.’” (linhas 16 e 17).

Questão 03 (Peso 1)

No texto, a linguagem é

- A) articulada de forma linear, priorizando a oralidade linguística.
- B) didática, pois está voltada para a finalidade específica do ensino.
- C) conotativa, já que recria determinados significados para os termos “criança” e “educador”.
- D) objetiva, uma vez que é marcada explicitamente pelo afastamento do locutor das ações enfocadas.
- E) explicativa, visto que está sendo usada para esclarecer a si mesma, evitando duplicidade de leitura de certos termos.

Leia atentamente o texto a seguir para responder às questões de 04 a 06.

TEXTO:

Pior que arrecadar mal é aplicar mal os recursos que são arrecadados. Essa máxima da administração pública denota o importante compromisso que os poderes constituídos — Legislativo, Executivo e Judiciário — são obrigados a absorver e exercitar ao criar, empregar e julgar o destino das verbas públicas.

- 5 Sabemos que nenhum país do mundo, por mais rico que seja, sobrevive sem a cobrança de tributo e que a carga tributária é um ônus a ser pago pela sociedade a fim de que todos tenham acesso aos serviços públicos, principalmente os menos favorecidos financeiramente, funcionando como se fosse uma espécie de redistribuição de renda.

- 10 O dinheiro público, constitucionalmente, deve ser empregado para fins coletivos que tenham, na população, a sua principal e única meta. As escolas, os hospitais, as estradas e pontes, os aeroportos e prédios públicos, enfim, tudo que o Estado precisa edificar para atender aos anseios da população é conquistado com verbas públicas. Inclui-se ainda, por exemplo, o repasse de verbas para os municípios, para os poderes Legislativo e Judiciário, para desenvolver os programas de Saúde e Segurança Pública, fazer funcionar o Corpo de Bombeiros que salva vidas e patrimônios, o pagamento do funcionalismo público inserido nessa estrutura, para administrar, com êxito, tudo isso.

Empregar os recursos com eficiência e imprescindível eficácia é mais que um dever dos mandatários políticos, é uma obrigação deles próprios e de todos os segmentos da sociedade.

- 20 O papel do fisco é indispensável para que o Estado consiga cumprir as suas responsabilidades e atender às demandas da sociedade, desempenhando sua tarefa de forma constante, mesmo em tempo de crise econômico-financeira, a fim de que toda a população possa usufruir dos resultados obtidos. Ao fisco cabe a árdua missão de ir à busca, de garantir o recolhimento do tributo que, a partir da concepção do produto, já pertence ao povo e a ele deve retornar na forma de benefícios.

CECÍLIO, Augusto Bernardo Sampaio. O papel social do fisco. Disponível em: < http://www.afisvec.org.br/artigo_det.php?id=244>. Acesso em: 24 jan. 2011. Adaptado.

Questão 04 (Peso 2)

Identifique com **V** as afirmativas verdadeiras e com **F**, as falsas.

De acordo com o texto, compete ao fisco

- () a garantia do recolhimento dos tributos.
- () a determinação do destino a ser dado ao dinheiro arrecadado.
- () o dever de fiscalizar a aplicabilidade correta do dinheiro público.
- () a aprovação das prioridades que serão contempladas com o arrecadado.
- () a viabilidade da arrecadação dos impostos para que se transformem em benefícios coletivos.

A alternativa que contém a sequência correta, de cima para baixo, é a

- A) V V V V V
- B) V V F F V
- C) V F F F V
- D) F V F V F
- E) F V V V F

Questão 05 (Peso3)

É verdadeiro o que se afirma sobre o termo transcrito em

- A) “mal” (linha 1), nas duas ocorrências, se opõe a *bom*.
- B) “que” (linha 2) introduz, no contexto, a mesma relação que o conector “que”, em “Sabemos que nenhum país do mundo” (linha 5).
- C) “mais” (linha 5) expressa a mesma ideia que “mais” (linha 16).
- D) “para” (linha 11) tem valor morfológico diferente do expresso por “para” (linha 12).
- E) “os” (linha 12) difere morfossintaticamente de “os” (linha 17).

Questão 06 (Peso3)

Sobre os elementos linguísticos que compõem o texto, está **sem o respaldo das normas gramaticais** a afirmativa que se faz na alternativa

- A) No fragmento “é um ônus **a ser pago pela sociedade**” (linha 6), a oração em negrito equivale a um adjetivo e tem valor passivo.
- B) Em “tudo **que** o Estado precisa edificar” (linha 11), o vocábulo em destaque pode ser permutado pelo conectivo *porque*, preservando-se o sentido do contexto.
- C) Na oração “para atender aos anseios da população” (linha 11), o verbo “atender” apresenta-se com a mesma regência da forma verbal “cabe”, em “Ao fisco cabe a árdua missão de ir à busca” (linhas 20 e 21).
- D) No trecho “o Estado consiga cumprir as suas responsabilidades e atender às demandas da sociedade, desempenhando sua tarefa de forma constante” (linhas 18 e 19), as formas pronominais “suas” e “sua” denotam posse de mesmo sujeito.
- E) No fragmento “mesmo em tempo de crise econômico-financeira” (linhas 19 e 20), a palavra “mesmo” expressa a ideia de inclusão.

Leia atentamente o texto a seguir para responder às questões de 07 e 08.

TEXTO:

As cidades nascem e se desenvolvem para atender às necessidades humanas. Sua localização obedece a uma lógica. Muitas cidades, na Antiguidade, foram criadas para se constituírem bastiões de defesa – eram cidades estrategicamente situadas – e várias delas tiveram como núcleo inicial um acampamento militar romano: Colônia, por exemplo. Outras, se desenvolveram ao longo de rotas
5 comerciais, de entroncamentos, junto a portos marítimos e fluviais, nas proximidades de fontes de matérias-primas, etc.

No Brasil, os primeiros embriões de cidades tiveram origem em aldeamentos indígenas por iniciativa de catequistas jesuítas e franciscanos, principalmente. Eram, em geral, do tipo “tabuleiro de xadrez”, ocupando a igreja o lugar de destaque numa praça central: o largo da matriz. Intervenções de ordem
10 governamental têm sido igualmente responsáveis pela criação de cidades: Washington, Belo Horizonte e Brasília são alguns exemplos.

O planejamento urbano não é um produto pronto e acabado. Qualquer que tenha sido o horizonte do plano original de uma cidade, em breve ele estará superado, carecendo, portanto, de constantes reformulações a fim de atender às novas demandas em um processo contínuo de aperfeiçoamento.

LORDELO, Manoel de Souza. A atualidade do plano urbanístico de Koeler. Disponível em: <http://www.ihp.org.br/colecoes/lib_ihp/docs/msl20000309.htm>. Acesso em: 25 jan. 2011. Adaptado.

Questão 07 (Peso 2)

É uma ideia presente no texto a de que todas as cidades surgiram

- A) a partir de um objetivo.
- B) em prol da religiosidade.
- C) com finalidade defensiva.
- D) com caráter mercantilista.
- E) por ordem governamental.

Questão 08 (Peso 3)

“Qualquer que tenha sido o horizonte do plano original de uma cidade, em breve ele estará superado, carecendo, portanto, de constantes reformulações a fim de atender às novas demandas em um processo contínuo de aperfeiçoamento.” (linhas de 12 a 14)

Identifique as afirmativas verdadeiras (V) e as falsas (F).

A análise do período em evidência permite afirmar:

- () “de uma cidade” exerce diferente função sintática do termo “de constantes reformulações”.
- () “em breve” é uma circunstância que expressa a ideia de tempo.
- () “ele” tem valor subjetivo e resgata, no contexto, “o horizonte do plano original de uma cidade”.
- () “portanto” aparece entre vírgulas por se encontrar em posição posterior à forma nominal “carecendo”.
- () “contínuo” qualifica o substantivo “processo”, exprimindo uma ideia de temporalidade.

A alternativa que contém a sequência correta, de cima para baixo, é a

- A) V F F F V
- B) V V F F V
- C) F V F V F
- D) F V V V F
- E) V V V V V

Leia atentamente o texto a seguir para responder às questões 09 e 10.

TEXTO:



CLASSIFICADOS Domingo, 12 de Janeiro de 2008

OPORTUNIDADE DE EMPREGO
Empresa de grande porte internacional, com sede no litoral do Nordeste brasileiro contrata :

DEGUSTADOR DE CERVEJA

Oferecemos :	Exigimos :
Apartamento Luxo	Disponibilidade para turismo na região e vontade de beber
Carro importado	
Horário flexível	
Salário fixo + bonus	Ganho inicial mensal :
Semana de 3 dias e outros benefícios.	R\$ 10.000,00

Não é necessária a experiência. O candidato poderá apresentar-se assim que descansar da viagem.

Para agendar seu voo pago ligue : 11-98526-98714

MÓVEIS
E:
e leva um pouco + Gratificação.
3333 Pontão.
L6000

Requisitos do cargo:
* Exatidão e organização na 2

OPORTUNIDADE de emprego. Disponível em: <<http://emprego-vagas-trabalho.blogspot.com/2008/02/charge-empregos.html>>. Acesso em: 25 jan. 2011. Postado por Florêncio.

Questão 09 (Peso 1)

Considerando-se o mercado de trabalho, o salário, as vantagens oferecidas e as exigências para o candidato ao emprego anunciado, a conclusão mais lógica a que se chega é que

- A) o preenchimento da vaga foi concomitante à publicação do anúncio.
- B) o anúncio, sem sombra de dúvida, foi postado a título de brincadeira.
- C) o número de candidatos, comprovadamente, extrapolou às expectativas.
- D) as condições de trabalho são insatisfatórias em face da função a ser desempenhada.
- E) a inexistência de requisitos para os candidatos é sinalizadora da dificuldade de se achar o perfil ideal para o serviço.

Questão 10 (Peso 2)

Com base no texto, é correto afirmar:

- A) “internacional” é uma palavra formada tão somente pelo processo de derivação prefixal.
- B) “Horário” é um vocábulo acentuado pela mesma razão que a palavra “flexível”.
- C) “Não é necessária a experiência.” exemplifica um dos casos de oração sem sujeito.
- D) “necessária” está no feminino pela presença do determinante “a” antes de “experiência”.
- E) “poderá” é uma forma verbal que indica uma ação momentânea.

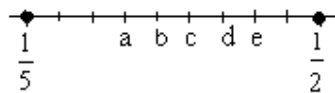
Questão 11 (Peso 2)

Para uma atividade lúdica de classe, foram sorteados três alunos, X, Y e Z, que, colocados lado a lado, não necessariamente nessa ordem, se alternaram dizendo números inteiros numa sequência crescente. Para começar, o primeiro aluno disse 3, o do meio, 6 e o terceiro, 9, voltando ao primeiro que disse 12, ao do meio, 15 e ao terceiro que disse 18, e assim sucessivamente.

Sabendo-se que o penúltimo número com 2 dígitos foi dito por X e que o primeiro número com 3 dígitos foi dito por Y, pode-se afirmar que a razão entre o décimo e o segundo números ditos por Z é igual a

- A) 4
- B) $\frac{31}{7}$
- C) 5
- D) $\frac{29}{5}$
- E) 7

Questão 12 (Peso 1)



Na figura, as frações $\frac{1}{2}$ e $\frac{1}{5}$ representam pontos de uma estrada retilínea onde deverão ser afixadas placas informativas para os motoristas, estando o trecho entre esses dois pontos demarcado em intervalos com o mesmo tamanho.

Sendo necessário afixar outra placa informativa no ponto correspondente à fração $\frac{1}{3}$, ela deve ser colocada em

- A) a
- B) b
- C) c
- D) d
- E) e

Questão 13 (Peso 1)

Uma pessoa deve pagar, hoje, R\$1850,00 para adquirir um objeto que, há alguns meses, custava R\$1000,00. Levando-se em conta apenas essa variação no preço do objeto, pode-se afirmar que o valor percentual mais próximo da perda do poder de compra do real, no período citado, é dado pela alternativa

- A) 9%
- B) 18%
- C) 37%
- D) 46%
- E) 85%

Questão 14 (Peso 1)

Somando-se o número atual de professores, alunos e atendentes de classe de uma escola, tem-se um total de 316 pessoas na razão de 25 alunos para cada professor e de três professores para cada atendente.

A fim de tornar a razão entre o número de atendentes e professores pelo menos igual a 1, será necessária a contratação de, no mínimo,

- A) 2 atendentes.
- B) 3 atendentes.
- C) 4 atendentes.
- D) 3 professores.
- E) 4 professores.

Questão 15 (Peso 3)

Ao completar 28 anos consecutivos de trabalho em uma empresa, um funcionário aposentou-se com menos de 70 anos de idade. Durante esse período, houve um ano em que completou, simultaneamente, x anos de trabalho nessa empresa e x^2 anos de idade.

Sabendo-se que ele começou a trabalhar na empresa com idade superior a 20 anos, pode-se afirmar que se aposentou com

- A) 58 anos.
- B) 61 anos.
- C) 64 anos.
- D) 66 anos.
- E) 69 anos.

Questão 16 (Peso 2)

Uma pessoa optou por pagar o IPTU de um imóvel em parcelas mensais, cada uma no valor de R\$85,00, com vencimento estabelecido para o dia 5 de cada mês. O não pagamento na data do vencimento implica acréscimos correspondentes a uma multa fixa de 1% mais juros simples de 0,33% por dia útil de atraso (até o limite de 10%), calculados sobre o valor da parcela.

Certo mês, o dia 5 ocorreu em uma terça-feira, mas o pagamento da parcela vencida nessa data só foi feito no dia 21 do referido mês.

Sabendo-se que não houve nenhum feriado bancário nesse período, pode-se afirmar que o valor do pagamento efetuado está entre

- A) R\$86,58 e R\$87,00.
- B) R\$87,10 e R\$88,00.
- C) R\$88,10 e R\$89,00.
- D) R\$89,10 e R\$90,00.
- E) R\$90,10 e R\$92,00.

Questão 17 (Peso 3)

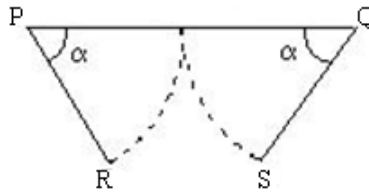
Certo equipamento foi comprado por R\$1500,00 e tem seu preço $P(t)$, t meses após sua compra, desvalorizado exponencialmente, de acordo com a expressão $P(t) = k \cdot a^t$ em que k e a são constantes positivas,

de modo que, no sexto mês após a compra, o seu valor foi reduzido a $\frac{3}{5}$ do valor pago.

Considerando-se os valores do equipamento referentes a seis meses, um ano e um ano e meio após a compra, tem-se um valor médio, em reais, igual a

- A) 564
- B) 588
- C) 622
- D) 664
- E) 720

Questão 18 (Peso 3)



Os segmentos PR e QS, na figura, representam os lados do portão de uma garagem que, quando abertos, fazem um ângulo máximo α , cuja tangente é igual a $\frac{4}{3}$, e determinam um vão de abertura RS, medindo 2 metros.

Nessas condições, pode-se afirmar que o portão tem largura PQ, medida em metros, igual a

- A) 3,20
- B) 3,60
- C) 4,00
- D) 4,50
- E) 5,00

Questão 19 (Peso 2)

Para a execução de três obras, O_1 , O_2 e O_3 , uma prefeitura fez uma licitação visando adquirir determinadas quantidades dos materiais, M_1 , M_2 e M_3 . As tabelas 1 e 2 contêm alguns dados das planilhas orçamentárias apresentadas por uma das empresas participantes da licitação, sendo que, na tabela 1, consta a quantidade de cada material a ser direcionado para cada obra e, na tabela 2, o preço unitário de cada material para pagamento a vista ou a prazo.

Tabela 1

	M_1	M_2	M_3
O_1	2	2	3
O_2	1	1	3
O_3	1	3	2

Tabela 2

	A vista	A prazo
M_1	12	9
M_2	8	9
M_3	10	10

Com base nessas informações, pode-se concluir que, em relação aos materiais M_1 , M_2 e M_3

- A) o custo, a vista, na aquisição do material para O_1 é igual a 66 unidades monetárias.
- B) o custo, a prazo, na aquisição do material para O_2 é igual a 50 unidades monetárias.
- C) O_2 é a obra cujo custo terá o maior acréscimo, quando o material for pago a prazo.
- D) O_3 é a obra cujo custo terá o menor acréscimo, quando o material for pago a prazo.
- E) o custo do material para O_1 , quando adquirido a prazo, é o mesmo custo do material para O_3 , quando adquirido a vista.

Questão 20 (Peso 2)

Uma gaveta de arquivo contém três pastas de cada uma das cores – azul, branco, preto e vermelho. Para cada cor, as pastas são numeradas com 1, 2 e 3.

Um funcionário distraído retira, ao acaso, simultaneamente, três pastas. Então, a probabilidade de que as três, independentemente de suas cores, tenham números 1, 2 e 3 é aproximadamente de

- A) 29%
- B) 35%
- C) 41%
- D) 46%
- E) 51%

Questão 21 (Peso 1)

As teclas de atalho que podem ser utilizadas para salvar um documento, no Word, são as identificadas como

- A) Ctrl + u
- B) Ctrl + s
- C) Ctrl + p
- D) Ctrl + b
- E) Ctrl + k

Questão 22 (Peso 1)

Para visualizar a lista dos últimos sites de internet, acessados no Internet Explorer, pode-se utilizar as teclas de atalho

- A) Ctrl + f
- B) Ctrl + h
- C) Ctrl + l
- D) Ctrl + n
- E) Ctrl + i

Questão 23 (Peso 3)

	A	B	C
1	1	2	3
2	4	5	6
3	7	8	9
4	10	11	12
5	13	14	15

A figura é um trecho de uma planilha Microsoft Excel. A célula D1 (não mostrada na figura) apresenta a fórmula =SOMA(B3:B5;C2;C5;A1).

O valor apresentado na célula D1, resultante da fórmula, é

- A) 44
- B) 49
- C) 55
- D) 120
- E) Erro

Questão 24 (Peso 1)

No sistema operacional Windows, para selecionar mais de um arquivo ou pasta, deve-se pressionar

- A) F2 + clicar nos arquivos e pastas desejados.
- B) CTRL + clicar nos arquivos e pastas desejados.
- C) CTRL + V + clicar nos arquivos e pastas desejados.
- D) ALT + TAB + clicar nos arquivos e pastas desejados.
- E) CTRL + SHIFT + clicar nos arquivos e pastas desejados.

Questão 25 (Peso 2)

Na internet, cada site possui um endereço único chamado de

- A) URL.
- B) http.
- C) FQDN.
- D) TCP/IP.
- E) Home Page.

Questão 26 (Peso 2)

Os procedimentos de cópias de segurança são executados regularmente, para guardar e restaurar dados e informações que existem no disco rígido dos computadores, de forma que seja possível uma recuperação no caso de defeito irreversível no disco.

A alternativa que apresenta apenas dispositivos utilizados nos procedimentos de backup é a

- A) Fita LTO, RAM, FITA DAT e Disquete.
- B) ROM, Drive de CD-ROM, FITA LTO e ZIP Drive.
- C) EPROM, Pen Drive, FITA LTO e Drive de CD-ROM.
- D) ZIP Drive, FITA LTO, Drive de CD-ROM e FITA DAT.
- E) Drive de DVD-ROM, FITA DAT, EPROM e ZIP Drive.

Questão 27 (Peso 2)

Sobre informática, é verdadeiro o que se afirma em

- A) O termo software está relacionado aos componentes físicos conectados ao computador.
- B) A placa de som é um circuito eletrônico integrado que reconhece os transistores de áudio.
- C) A internet é uma rede de computadores que é utilizada somente para facilitar a comunicação interna das empresas, disponibilizando aplicações WEB internamente, como e-mail, chat e portais.
- D) Os equipamentos utilizados para introduzir informações no computador são denominados de periféricos de entrada sendo o *mouse* um exemplo de um periférico de entrada.
- E) O sistema operacional é um conjunto de instruções armazenadas em uma memória do tipo somente leitura e sua função principal é prover aplicações, como banco de dados, processadores de texto e planilhas eletrônicas.

Questão 28 (Peso 3)

Alguns sites da internet utilizam um recuso chamado *plug in*, que significa

- A) um link presente na página web.
- B) um sistema de segurança utilizado por sites seguros para garantir a privacidade do usuário.
- C) um complemento de software que é acoplado a um aplicativo para ampliar suas funções.
- D) um vírus especializado em roubar informações bancárias armazenadas na máquina do usuário.
- E) arquivos de texto que alguns sites criam no computador do usuário para armazenar as informações recolhidas sobre a sua visita ao site.

Questão 29 (Peso 3)

Sobre conceitos de internet e correio eletrônico, é correto afirmar:

- A) O acesso às mensagens eletrônicas, através do webmail, só pode ser efetuado no computador pessoal do proprietário da conta, após configurações específicas.
- B) Ao acessar a caixa postal, através do webmail, as mensagens estarão armazenadas no servidor e não no computador pessoal.
- C) Uma mensagem eletrônica enviada por webmail pode conter, no máximo, cinco arquivos anexados.
- D) O Outlook permite criar grupo de pessoas desde que elas possuam o mesmo endereço eletrônico.
- E) Para que um usuário realize buscas na Internet, é necessário ter uma conta de usuário no Google.

Questão 30 (Peso 2)

O aplicativo padrão do Windows para manipulação de arquivos com extensão .csv é o

- A) Acrobat Reader.
- B) Power point.
- C) Scandisk.
- D) Excel.
- E) Paint.

Questão 31 (Peso 1)

Identifique com **V** as afirmativas verdadeiras e com **F**, as falsas.

O Artigo 25 da Lei Complementar nº 10, de 02 de agosto de 2006, que Institui o Código de Posturas do Município de Irecê traz algumas recomendações.

No planejamento, a instalação e a manutenção das fossas, que não podem se situar em passeios e vias públicas,

- () devem ser localizadas em terrenos secos e, se possível, homogêneos, em área coberta, de modo a elidir o perigo de contaminação das águas do subsolo, fontes, poços e outras águas de superfície.
- () não podem situar-se em relevo superior ao dos poços simples, nem deles estar com proximidade menor que 15m (quinze metros), mesmo que localizados em imóveis distintos.
- () devem ter medidas adequadas, não podendo possibilitar a proliferação de insetos e, na manutenção, serem bem resguardados e periodicamente limpos, de modo a evitar a sua saturação.
- () os dejetos coletados em fossas deverão ser transportados em veículos adequados e lançados em locais previamente indicados pelo órgão competente da Prefeitura.

A alternativa que contém a sequência correta, de cima para baixo, é

- A) F F V V
- B) F V V F
- C) V F F V
- D) V V F F
- E) V V V V

Questão 32 (Peso 1)

Identifique com **V** as afirmativas verdadeiras e com **F**, as falsas.

O Art. 79 da Lei Complementar 10/2006 do município de Irecê regula que os estabelecimentos, cujas mercadorias ou outros bens possam ser conservadas ao ar livre, deverão

- () mantê-los convenientemente arrumados.
- () observar distâncias, em relação às divisas do terreno, iguais à altura da pilha, fixada, no mínimo, em 2m (dois metros).
- () atender às normas de necessidade de asseio e segurança somente durante a exposição das mercadorias.
- () ter nos terrenos de esquina, os afastamentos frontais que devem corresponder às distâncias exigidas pela legislação específica.
- () observar, tratando-se de depósito de sucatas, papéis usados, aparas ou materiais de demolição, que as mercadorias que não poderão ser visíveis dos logradouros públicos adjacentes.

A alternativa que contém a sequência correta, de cima para baixo, é

- A) V V V V V
- B) V F F F V
- C) V F F V F
- D) V V F V V
- E) F F V V V

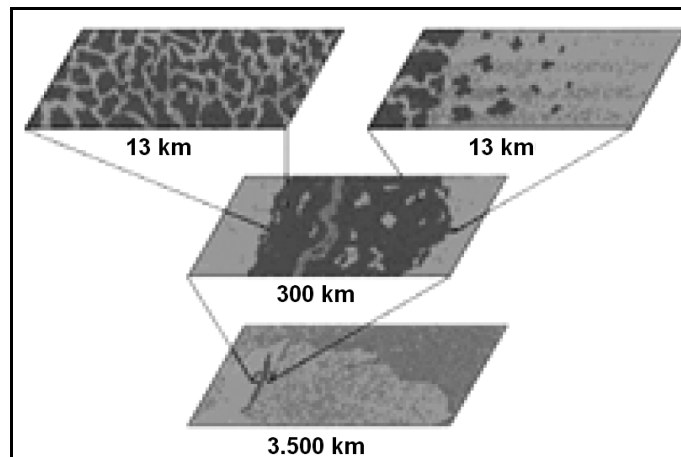
Questão 33 (Peso 2)

A cada cidadão cabe o dever de buscar o interesse coletivo antes do interesse pessoal, devendo ele, quando necessário, abrir mão dos seus direitos em prol da coletividade.

Essa restrição individual a favor da coletividade é realizada através do poder

- A) regrado.
- B) arbitrário.
- C) vinculado.
- D) discricionário.
- E) autoexecutório.

Questão 34 (Peso 1)



A figura expressa uma técnica de análise espacial vital para o estabelecimento da análise geográfica e diz respeito a diferentes

- A) topografias de um mapa.
- B) estratigrafias paisagísticas.
- C) quilometragens rodadas.
- D) escalas espaciais.
- E) perfis longitudinais.

Questão 35 (Peso 2)

Identifique com **V** as afirmativas verdadeiras e com **F**, as falsas.

A Prefeitura Municipal indicará, nas plantas apresentadas junto com o requerimento, de acordo com as diretrizes de planejamento estadual e municipal,

- () as ruas ou estradas existentes ou projetadas, que compõem o sistema viário da cidade e do município relacionadas com o loteamento pretendido e a serem respeitadas.
- () o traçado básico do sistema viário principal.
- () a localização aproximada dos terrenos destinados a equipamento urbano e comunitário e das áreas livres de uso público.
- () as faixas sanitárias do terreno necessárias ao escoamento das águas pluviais e as faixas não edificáveis.
- () a zona ou as zonas de uso predominante da área, com indicação dos usos compatíveis.

A alternativa que contém a sequência correta, de cima para baixo, é

- A) V V F F F
- B) V F F F V
- C) F V V V F
- D) F F F V V
- E) V V V V V

Questão 36 (Peso 2)

O elemento que se afigura irrelevante para eficácia do ato administrativo vinculado é

- A) a forma.
- B) o mérito.
- C) o objeto.
- D) o motivo.
- E) a competência.

Questão 37 (Peso 2)

Numa situação hipotética, tem-se o seguinte:

O “lixão de Irecê” está situado na divisa da cidade com o povoado de Umbuzeiro, nas proximidades do bairro Loteamento Félix, a 5 km do centro da cidade. É comum encontrar no “lixão de Irecê”, além do lixo doméstico, os resíduos provenientes de hospitais e clínicas médicas, que são despejados junto com os outros resíduos, fato que pode infectar a população de catadores que vivem e retiram o sustento do lixo que ali é despejado.

Identifique com **V** as afirmativas verdadeiras e com **F**, as falsas.

Solicitado por moradores do Loteamento Félix para ir até o local constatar essa irregularidade, o procedimento que o fiscal de obras e postura deveria ter seria o de

- () denunciar a Prefeitura Municipal ao Ministério Público.
- () elaborar um laudo técnico e encaminhar à secretaria competente para as providências.
- () interditar imediatamente o lixão, providenciar a retirada imediata dos catadores e, por fim, comunicar a situação ao superior hierárquico.
- () fazer cumprir o que existe na legislação municipal, segundo a sua competência.

A alternativa que contém a sequência correta, de cima para baixo, é

- A) V V V V
- B) V F F V
- C) V F V F
- D) F V F V
- E) F F V V

Questão 38 (Peso 3)

Excetua-se dos poderes relativos exclusivamente à organização administrativa o de

- A) disciplina.
- B) delegar funções.
- C) editar atos normativos.
- D) contratar obra pública.
- E) cumprimento de ordem expressa por superior hierárquico.

Questão 39 (Peso 3)

A revogação, por seu caráter discricionário, pode atingir os seguintes elementos do ato administrativo:

- A) Forma e objeto.
- B) Objeto e motivo.
- C) Finalidade e objeto.
- D) Motivo e finalidade.
- E) Forma e finalidade.

Questão 40 (Peso 3)

Dos crimes praticados por funcionário público contra a administração em geral, o que está descrito na redação “apropriar-se o funcionário público de dinheiro, valor ou qualquer outro bem móvel, público ou particular, de que tem posse em razão do cargo, ou desviá-lo, em proveito próprio ou alheio” é considerado como

- A) peculato.
- B) concussão.
- C) prevaricação.
- D) excesso de exação.
- E) corrupção passiva.